

ШИФР 09-33

Олимпиадная работа
муниципального этапа всероссийской олимпиады
школьников по географии

учащегося 9 класса
муниципального автономного общеобразовательного учреждения
«Средняя общеобразовательная школа № 40»
Старооскольского городского округа Белгородской области

Иванова Дмитрия Александровича

Педагог-наставник:
учитель географии
МАОУ «Средняя общеобразовательная школа № 40»
Головина Татьяна Станиславовна

Итого: 475

	Задание 1	Задание 2	Задание 3	Задание 4	Задание 5	тест	итого
Баллы	85	25	55	155	05	175	475

**Задания муниципального этапа
всероссийской олимпиады школьников по географии
2025-2026 учебный год, 9 класс**

Время выполнения – 180 минут

Максимальный балл – 143

Не разрешается пользоваться атласами, любыми справочными данными, в том числе сотовыми телефонами, и прочими гаджетами. Пишите разборчиво! Удачи!

Аналитический раунд**Задание 1.**

Максимальное количество баллов – 12

85

Прочтите стихотворение В.Брюсова, ответьте на вопросы.

От пышно-полноводной Ладоги
До сумрачных балтийских вод,
То преломляя краски радуги,
То зыбля дымный пароход, -

Полями радостно открытыми,
Прислушиваясь к шуму стад,
И, алыми, во мгле, гранитами,
Глядя, как сфинксы мирно спят...

О какой реке идет речь?

Нева 4

Определите уклон реки, если известна длина (74 км) и высота истока (4 м). Запишите расчеты.

$$4 \text{ м} : 74 \text{ км} = 0,054 \text{ м/км}$$

$$4 \text{ м} : 74 \text{ км} = 0,054 \text{ м/км}$$

0

По каким 2 субъектам Российской Федерации она протекает?

Верхневолжский бассейн

Санкт-Петербург 2

По геологическому возрасту молодой или древней можно считать эту реку? Аргументируйте ответ.

Молодой 2

Задание 2.

Максимальное количество баллов – 17

25

Задание по топографической карте

Внимательно рассмотрите часть топографической карты. Ответьте на вопросы.

1. Определите и запишите именованный масштаб карты. 1:25000 0
2. Перечислите способы, с помощью которых можно определить масштаб этой карты.

(помощью линейной координатной сетки и шкалы) 0,5 + 0,5

3. Определите, через сколько метров проведены горизонтали. 5 м. 0
4. Определите географические координаты г. Михалинская 68,2; 12,8. 0

5. Определите истинный и магнитный азимуты направления движения с г. Карьерная на г. Михалинская, если магнитное склонение западное 2° истинный 45° 0

истинный с учетом поправки 45° + 2° = 47° 0

6. К северо-востоку от г. Михалинская находится лес. Как он называется? Охарактеризуйте его (укажите породу деревьев и количественные характеристики)

^{0,5} мелкий, ^{0,5} сильн- порода деревьев.

7. Чему будет равно атмосферное давление на уровне уреза воды р.Соть, если на г.Михалинская оно соответствует нормальному атмосферному давлению. Расчеты запишите.

8. Какой берег у р.Соть пологий? Левый 0

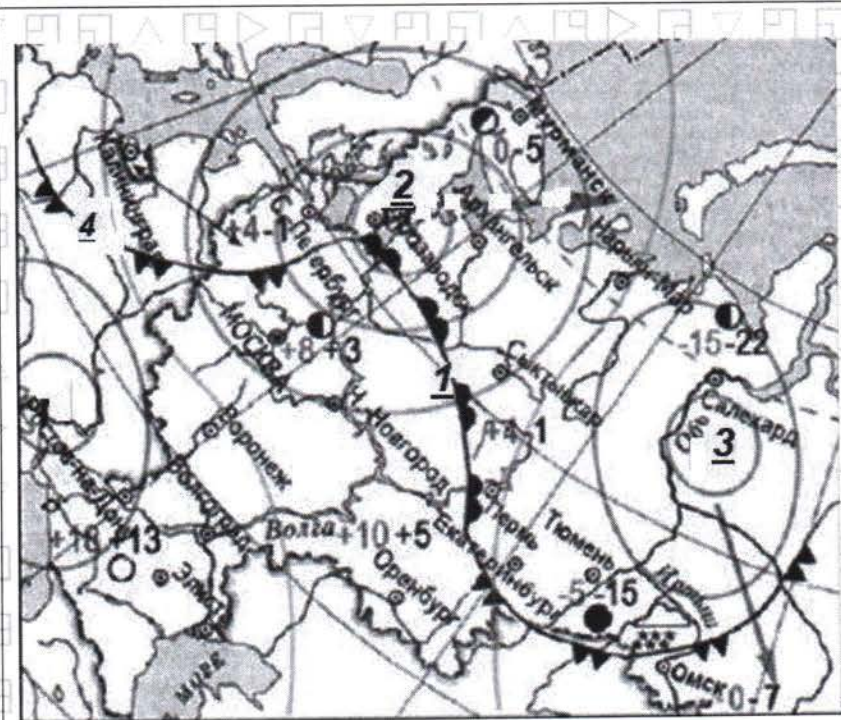
9. Перечислите, какие пути сообщения ведут к угольным шахтам?

10. Верно ли, что шахты являются недействующими? Верно 0

Задание 3.

Максимальное количество баллов – 15

55



ис.1. Карта погоды (на 9 апреля 2009 года)

1. В каком из городов 10 апреля 2009 года прогнозировалось наиболее вероятное существенное похолодание (рис.1)?

Вик 3 5

2. Какой тип атмосферного фронта изображен на рисунке 2? теплый 2 5

Какой цифрой фронт такого типа отмечен на рисунке 1?

холодный

3. Какой тип погоды характерен для города, который расположен на широте 66,5° с.ш.?

преобладающий

4. Над какими территориями формируются циклоны, приходящие на Европейскую часть России?

4, 2.

5. Как называется атмосферный вихрь, изображенный на рисунке 3? циклон
Какой области, в центральной части отмеченной цифрой (2 или 3), он соответствует на карте?

Сибирская

№	Название города	Подвиг	Описание города	№ рисунка	Название города	Подвиг	Описание города
1	Санкт-Петербург	4	Е	4	Мурманск	Д	Б
2	Севастополь	У	Ж	5	Валерия	Б	В
3	Мурманск	Е	Д	6	Брест	В	Т

150




Рис.1



Рис.2




Рис.3





Рис.4

Рис.5 *Волгоград*Рис.6 *Брест***Задание 5.** Максимальное количество баллов – 61

Задания на знание географической номенклатуры (по 1 баллу за верный ответ)

Во вторую колонку таблицы следует записывать номер объекта, который в вопросах отмечен подчёркиванием. Цифровое обозначение государств или крупных регионов на карте проставлено около их административных центров, названия рек – около их устьев.

Вопрос	№ на карте	Дополнительные вопросы	Ответ
1. Самый крупный остаток первобытного реликтового <u>леса</u> на территории Европы		Запишите: а) его название; б) названия государств, на которых расположен данный лес; в) названия столиц этих государств	
2. Это явление распространено на острове Гомера и получило название «сильбо гомеро». Долгое время оно считалось единственным в своём роде. Сегодня известно, что посредством такого способа могут общаться в а) <u>Греции</u> , б) <u>Турции</u> , в) <u>Мексике</u> , г) <u>Индии</u> , французских д) <u>Пиренеях</u> , е) <u>Зимбабве</u> и ж) <u>Замбии</u>	а- б- в- г- д- е- ж- з-	Запишите: а) к какому <u>архипелагу</u> относится остров Гомера; б) в состав какого государства входит архипелаг; в) каково происхождение островов В случае неправильно указанных названий номер на карте не зачитывается	
3. Какие страны омываются водами некогда крупного <u>морья</u> , но при этом не имеют выхода к Мировому океану?		Запишите: а) название моря; б) названия стран; в) к какой языковой семье относится население этих стран	
4. Самая высокая <u>горная вершина</u> Антарктиды		Запишите: а) название горного массива;	

		<p>б) какому государству принадлежит эта территория;</p> <p>в) название природной зоны, в которой расположен массив</p>	
5. Регион/территория за которой большинством исследователей признаётся первенство возникновения письменности (не иероглифики)		<p>Запишите:</p> <p>а) название <u>территории</u>;</p> <p>б) народ, создавший первую письменность;</p> <p>в) что явилось носителем для записей</p>	
6. В какой стране находится самое высокогорное постоянное поселение		<p>Запишите:</p> <p>а) название <u>страны</u> и её столицы;</p> <p>б) название горной системы, в пределах которой находится эта страна;</p> <p>в) название уникального озера, расположенного на юго-восточной границе;</p> <p>г) в чем уникальность озера</p>	Немал,
<p>7. Какие из перечисленных объектов не являются полуостровами:</p> <p>А) <u>Малакка</u>, В) <u>Малая Азия</u>, С) <u>Маракайбо</u>, Д) <u>Лабрадор</u>, Е) <u>Юкатан</u>, Ф) <u>Бретань</u>, Г) <u>Хайнань</u></p> <p>(при указании номеров в ответе соблюдайте заданную последовательность, если ответ не знаете, ставьте прочерк)</p>	<p>А:</p> <p>В:</p> <p>С:</p> <p>Д:</p> <p>Е:</p> <p>Ф:</p> <p>Г: ✓</p>	<p>Запишите:</p> <p>чем является каждый из выбранных вами объектов (не полуостровов)</p>	Хайнань это островная южн. Азия.
8. Крупнейший в мире архипелаг по количеству островов	В поле для ответов	<p>Запишите:</p> <p>а) название архипелага;</p> <p>б) названия <u>пяти самых больших островов</u> в его составе + укажите цифры, которыми отмечены эти острова;</p> <p>в) преобладающий тип естественной растительности</p>	
9. Каких животных завезли в <u>Якутию</u> из <u>Канады</u> , которые успешно адаптировались к суровым условиям проживания?		<p>Запишите:</p> <p>а) название животных;</p> <p>б) в скольких часовых поясах расположена Якутия;</p>	б) чукча
10. На берегах какой реки расположен город <u>Красноярск</u> ?		<p>Запишите:</p> <p>а) названия реки;</p> <p>б) название ГЭС, которая является самой мощной в России;</p>	орзая

ТЕСТОВЫЙ РАУНД

(за каждый верный ответ - 1 балл, максимально - 20 баллов)

175

1. 2	1. 2	3. 5	4. 9	5. 5	6. 20	7. 2	8. 8	9. 8	10. 9
11. 2	12. 8	13. 8	14. 50	15. 8	16. 2	17. 8	18. 9	19. 8	20. 2

1. Какое озеро является самым северным в России из перечисленных:
а) Селигер, б) Ханка, в) Ладожское, **г) Таймыр.**
2. К горным областям герцинской складчатости принято относить:
а) Восточный Саян; б) Пиренеи; в) Карпаты; **г) Алтай.**
3. Река, относящаяся к бассейну Атлантического океана:
а) Северная Двина, **б) Кубань**, в) Печора, г) Урал.
4. Остров, на котором расположена столица государства:
а) Новая Гвинея, б) Кергелен, в) Крит, г) Кюсю.
5. Какой из перечисленных объектов является полуостровом?
а) Эйяфьядлайёкюдль, **б) Салентина**, в) Ньюфаундленд, г) Шатт-эль-Араб.
6. Форма рельефа, созданная горным ледником:
а) кар, б) карры, в) булгуннях, **г) озовая гряда.**
7. Какие почвы характерны для Карелии?
а) мерзлотно-таёжные, б) бурые лесные, в) серые лесные, **г) подзолистые.**
8. Столица какой страны ранее носила название Целиноград?
а) Таджикистан, б) Узбекистан, **в) Казахстан**, г) Туркмения.
9. Для какой территории характерен флористический ландшафт каатинга или «лес без тени»?
а) Бразильское плоскогорье, б) Лаврентийская возвышенность, в) впадина Калахари, г) Восточно-Африканское плоскогорье.
10. Что на Земле не влияет на смену времен года?
а) вращение Земли вокруг своей оси, б) вращение Земли вокруг Солнца, в) наклон земной оси к плоскости орбиты, г) форма земной орбиты.
11. В каком из перечисленных городов максимальная среднемесячная температура наблюдается весной?
а) Рабат, б) Пекин, в) Амман, **г) Дели.**
12. Приток Лены с эвенкийским названием Сиинэ в русском языке превратился в Синюю, но поскольку река берёт начало в торфяном болоте, вода в ней:
а) красная, б) белая, **в) чёрная**, г) жёлтая.
13. Субъект РФ, в котором распространена светлохвойная тайга:
а) Вологодская область, б) Республика Саха-Якутия, в) Республика Татарстан, г) Брянская область.
14. Какой прибор предназначен для измерения расстояний и превышений одной точки над другой?
а) анемометр, **б) буссоль**, в) нивелир, г) ватерпас.
15. Где образуется новая земная кора океанического типа?
а) во внутренних морях, б) в океанических желобах, **в) в зоне срединно-океанических хребтов**, г) в области островных дуг.
16. Какой вулкан находится на острове недалеко от столицы государства?
а) Ключевская Сопка, б) Тятя, в) Кракатау, **г) Фудзияма.**
17. Вследствие потепления климата в Казани появились птицы, которые не характерны для территории Татарстана. Это –
а) свиристели, **б) бакланы**, в) утки, г) дрозды.
18. Какое кругосветное путешествие будет короче:
а) по параллели 50° ю.ш, б) по меридиану 50° в.д.

в) по экватору, г) по параллели 10° с.ш.

19. Какие из перечисленных названий природных объектов не принадлежат вулканам?

а) Мауна-Лоа, б) Поопо, в) Килауэа, г) Ключевская сопка.

20. На какой территории была зарегистрирована относительная влажность воздуха 0%?

а) Антарктида, б) Сахара, в) Эверест, г) на Земле нет такого места.